

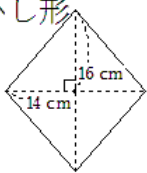
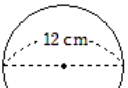
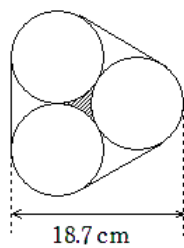
～ 小学校 総合問題について 訂正とお詫び ～

日頃より、本校の教育活動にご理解、ご協力いただきまして、ありがとうございます。また、ホームページ上にある家庭用学習時間割につきましても、ご活用いただいているというお声を聞いており、大変うれしく思っております。

このたび、第1学年の数学の課題について、訂正がありました。大変申し訳ありません。

総合問題3-④ **43** について以下のように訂正いたします。

下線部の内容を追加してお考えください。

<p>小学校 総合問題3-④</p> <p>38 次の図形の面積を求めなさい。</p> <p>ひし形</p>  <p>39 次の円の面積を求めなさい。</p> 	<p>43 次の図は、ぴったり並べた空き缶をひもでしばったときの様子を表している。</p> <p>斜線部分の面積を求めよ。ただし、空き缶の底面は、すべて大きさの等しい円とする。</p> <p>また、円周率は3.14として計算せよ。</p> <p><u>円の半径は5 cmとする。</u></p> 
--	---

ご心配、ご迷惑をおかけしてしまい、大変申し訳ありませんでした。

また、教えていただいた方々には心より御礼申し上げます。本当にありがとうございました。今後も何かご不明な点等ございましたら、ご連絡いただくと大変うれしく思います。

総合問題①～④は回収いたしますが、個人の学力状況を把握するための回収ですので、どうしても分からないものについては、空欄のまま構いません。ご提出いただいたものについては、今後の教科指導の中で生かしてまいります。

今後ともどうぞよろしく願いいたします。