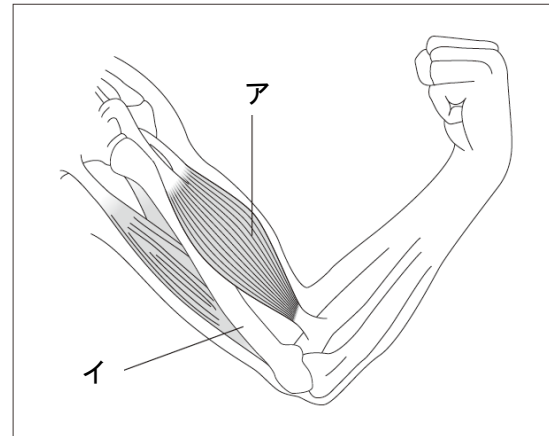


1 夏と冬で生き物がたくさん見られるのはどちら
でしょうか。

2 人の体のつくりについて図を見て答えましょう。

(1) アとイの部分の名前を
書きましょう。

(2) アの部分は力を入れる
とどうなりますか。



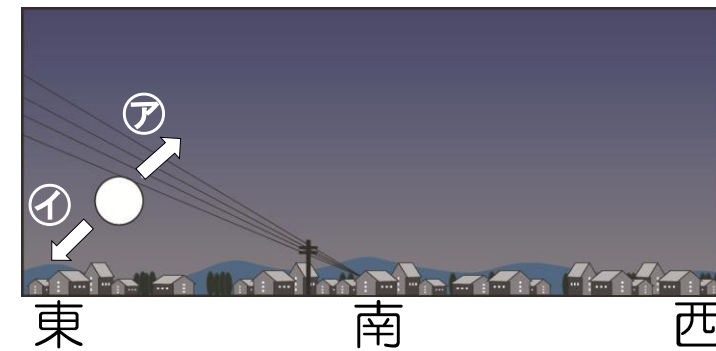
次の中から選びましょう。

(かたくなる ・ やわらかくなる)

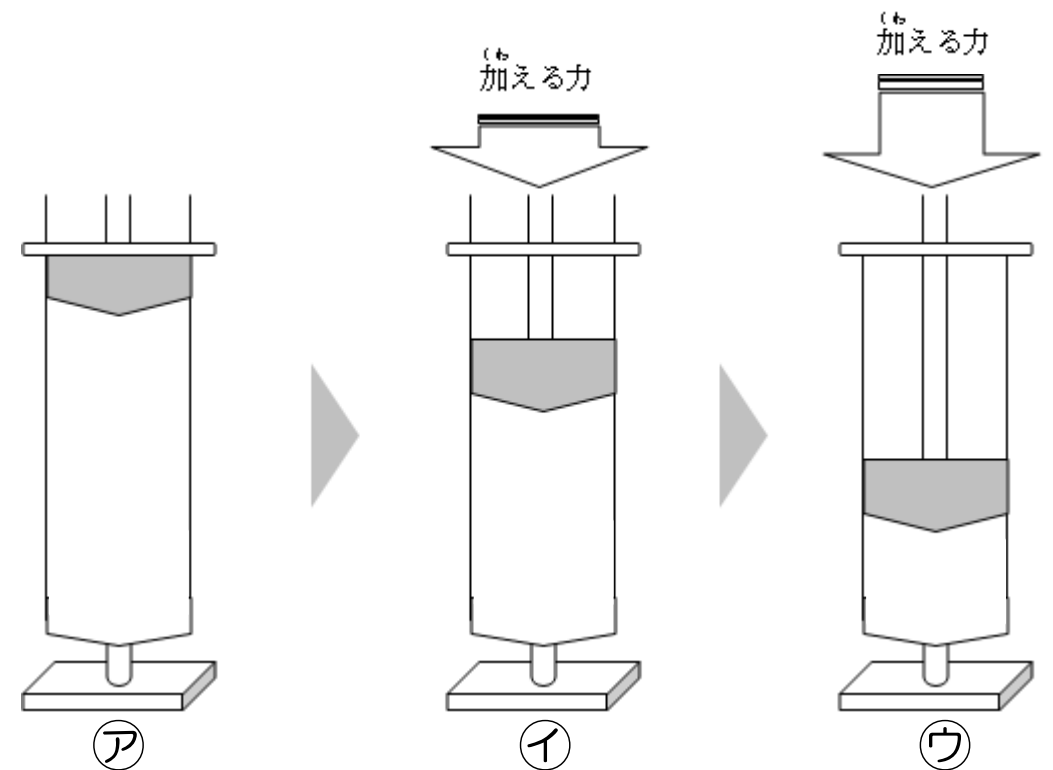
3 気温の変化について () にあてはまる言葉を答
えましょう。

晴れた日は (①) があたることで気温が (②)、雨
の日は (①) がさえぎられることで、気温があまり
上がらない。 ※2つの①には同じ言葉が入ります。

4 月が動く方向はアとイのどちらでしょう。



5 とじこめた空気のせいしつについて答えましょう。

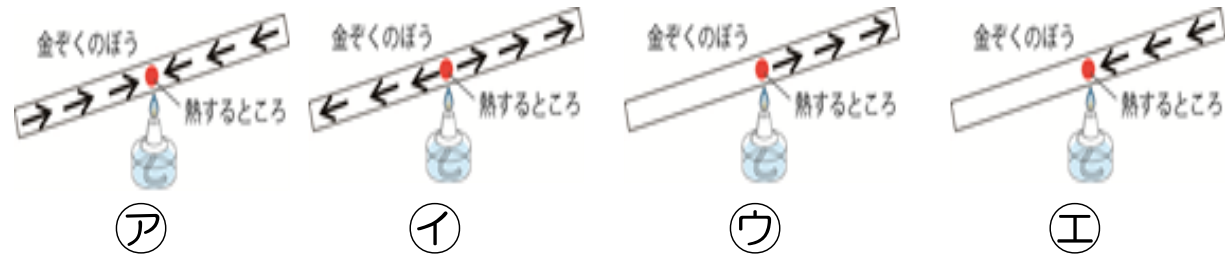


(1) 手ごたえ (おしかえす力) が一番大きいのは
どれでしょう。

(2) 空気の体積が一番小さいのはどれでしょう。

6 ものの温まり方について答えましょう。

(1) 熱の伝わり方の正しいものを選びましょう。



(2) あてはまる言葉を書きましょう。

空気や水を温めると体積は (1) なり、冷やすと体積は (2) なる。

7 水のせいしつについて、あてはまる言葉を下の中から選び、記号で答えましょう。

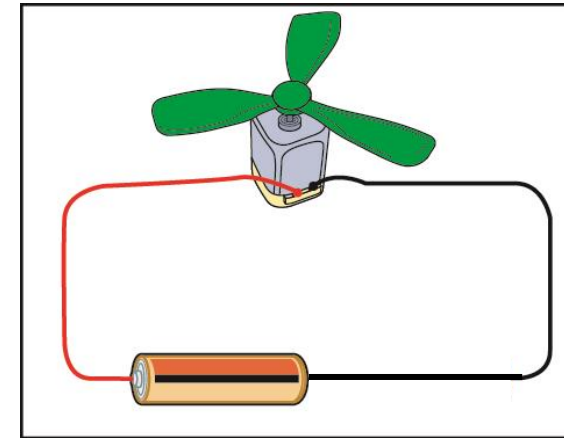
(1) 水は (1) °C でふっとうして (2) になる。

(2) 水は (3) °C になるとこおりはじめる。

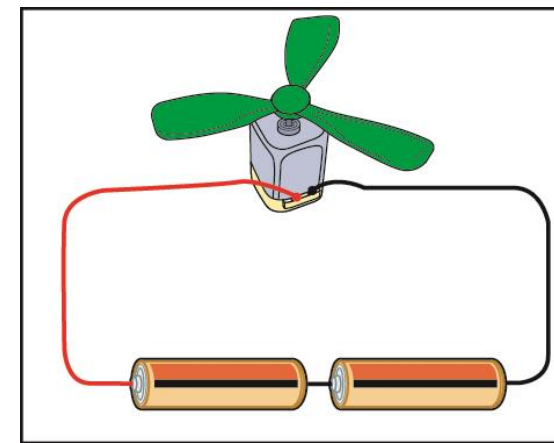
(3) 水はふっとうしていなくても、しぜんに (4) する。

ア、0 イ、15 ウ、100
エ、じょうはつ オ、氷 カ、水じょう気

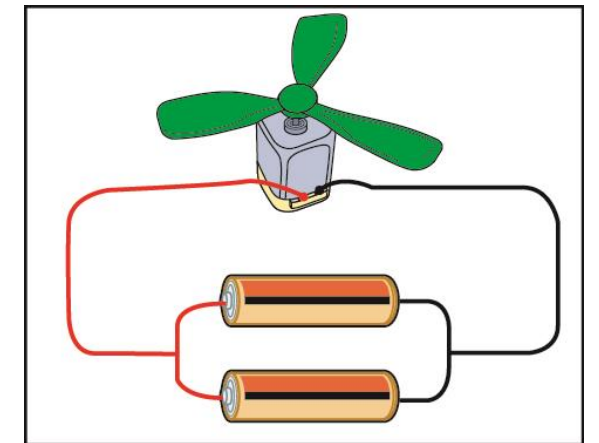
8 電気の働きについて答えましょう。



ア



イ



ウ

(1) イとウの回路の名前を答えましょう。

(2) イとウの回路はアの回路と比べてモーターのまわる速さはどうなりますか。それぞれ答えましょう。